


Η εξέλιξη ενός τόπου

Επιμέλεια:
Τάσος Ανθουλιάς



Τετάρτη
6 Μαΐου 1953

Περιγράψτε την εικόνα που βλέπετε.




Πέμπτη
16 Αυγούστου 1956

Περιγράψτε την εικόνα που βλέπετε τώρα.



Τετάρτη
6 Μαΐου 1953

Τι διαφορές παρατηρείτε ανάμεσα στις δύο εικόνες;



Πέμπτη
16 Αυγούστου 1956



Παρασκευή
20 Νοεμβρίου 1959

Περιγράψτε την εικόνα που βλέπετε τώρα.



Πέμπτη
16 Αυγούστου 1956

Τι διαφορές παρατηρείτε ανάμεσα στις δύο εικόνες;



Παρασκευή
20 Νοεμβρίου 1959




Περιγράψτε την εικόνα που βλέπετε τώρα.



Παρασκευή
20 Νοεμβρίου 1959

Τι διαφορές παρατηρείτε ανάμεσα στις δύο εικόνες;



Σάββατο
19 Ιανουαρίου 1963




Κυριακή
17 Απριλίου 1966

Περιγράψτε την εικόνα που βλέπετε τώρα.



Σάββατο
19 Ιανουαρίου 1963

Τι διαφορές παρατηρείτε ανάμεσα στις δύο εικόνες;




Κυριακή
17 Απριλίου 1966



Δευτέρα
14 Ιουλίου 1969

Περιγράψτε την εικόνα που βλέπετε τώρα.



Κυριακή
17 Απριλίου 1966

Τι διαφορές παρατηρείτε ανάμεσα στις δύο εικόνες;



Δευτέρα
14 Ιουλίου 1969



Τρίτη
3 Οκτωβρίου 1972

Περιγράψτε την εικόνα που βλέπετε τώρα.



Δευτέρα
14 Ιουλίου 1969

Τι διαφορές παρατηρείτε ανάμεσα στις δύο εικόνες;



Τρίτη
3 Οκτωβρίου 1972



Τετάρτη
6 Μαΐου 1953

Από το 1953 στο 1972



Τρίτη
3 Οκτωβρίου 1972